

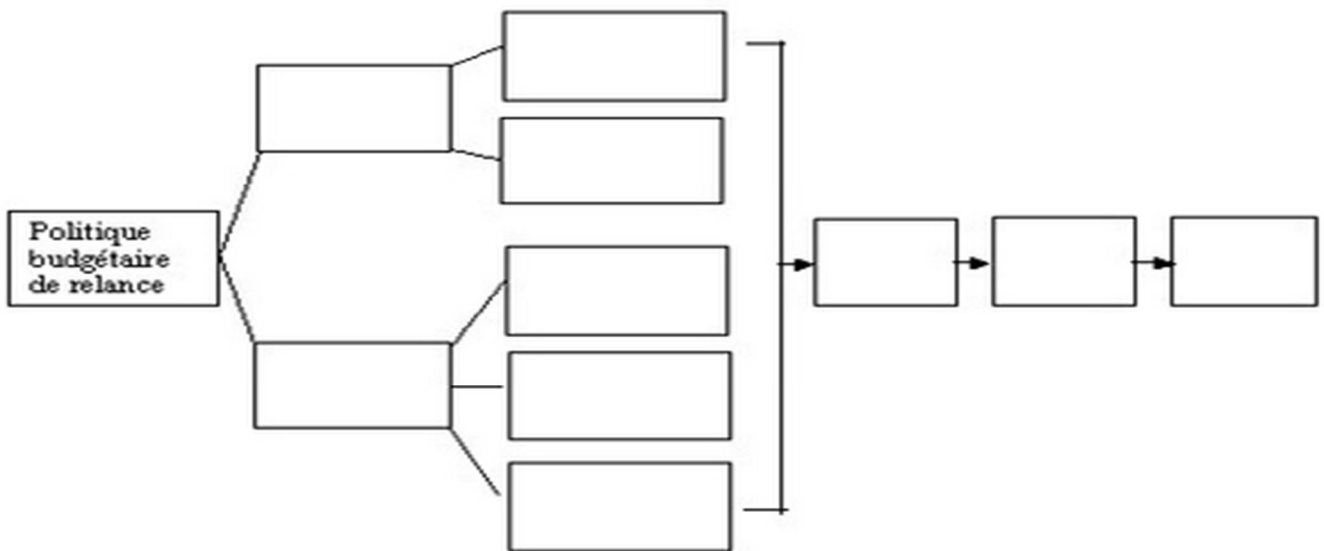
I] Définissez les termes suivants (3 points)

- Demande globale
- Chômage
- Politique conjoncturelle

II] Mobilisation de connaissances

- A) En période d'expansion économique, comment évolue mécaniquement le budget de l'Etat ? Quels sont alors, les deux choix qui s'offrent à l'Etat en matière de politique conjoncturelle ? (3 points)
- B) Complétez le schéma à l'aide des termes fournis : Attention toutefois, car à chaque fois que j'ai mis hausse ou baisse, alors vous ne devez écrire dans la case que la bonne réponse ! (5 points)

Production stimulée/ hausse ou baisse de l'investissement public/ hausse ou baisse des recettes de l'Etat/
 hausse ou baisse de la demande globale/ hausse ou baisse des revenus versés/ incitation à la dépense privée/
 hausse ou baisse des dépenses publiques/ hausse ou baisse des cotisations sociales/ hausse de l'emploi/ hausse
 ou baisse des impôts.



Source du schéma : site melchior.fr

- C) Complétez la grille à l'aide des indications fournies (4 points)

	<p>Horizontalement :</p> <ol style="list-style-type: none"> 3. Telle est la mesure de l'investissement dans la demande globale... 4. Tel est le solde extérieur lorsque les importations sont supérieures aux exportations. 5. Politique en faveur du retour à la croissance économique. 7. Politique qui lutte contre l'inflation. 8. La France n'a plus connu un excédent de ce solde depuis les années 80! <p>Verticalement :</p> <ol style="list-style-type: none"> 1. Ces réserves augmentent en cas de politique monétaire restrictive... 2. Telle est la politique lorsque par exemple, elle est d'austérité en période de récession... 6. Synonyme de réel...
--	---

Attention, étude de document au dos !

Document 1 : La politique budgétaire : efficace ?

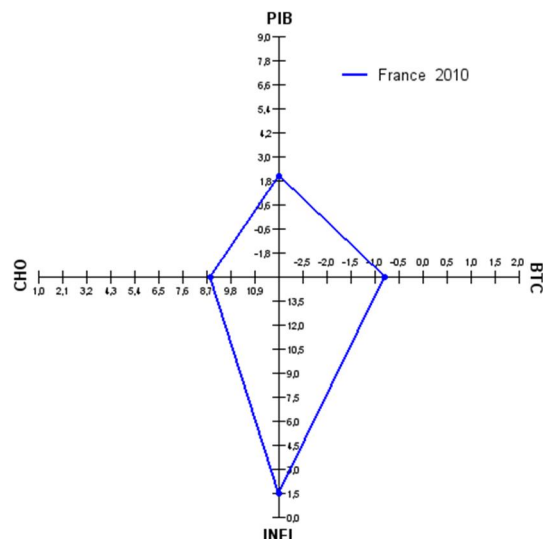
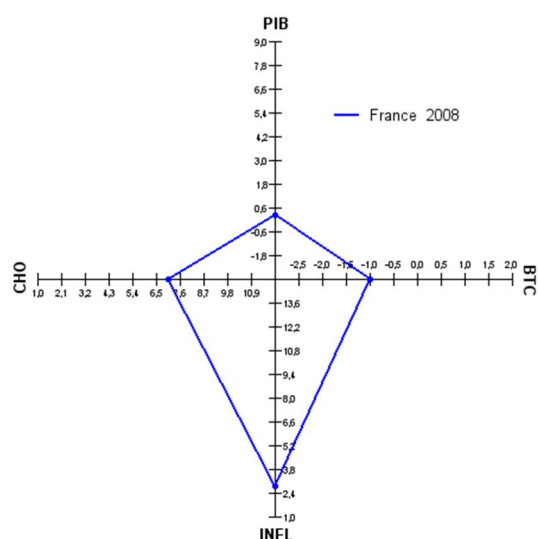
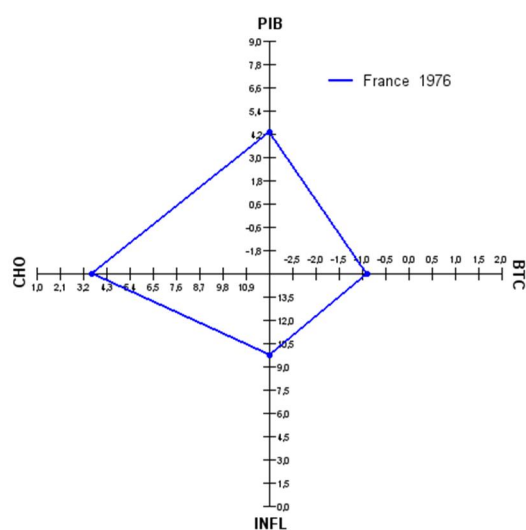
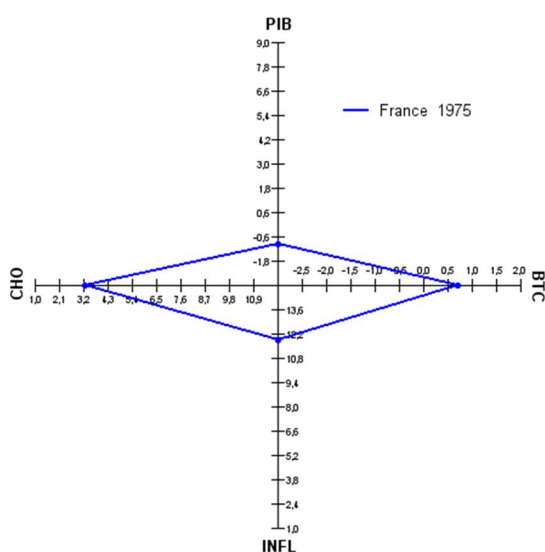
Une question fondamentale de l'économie publique est de savoir si les agents s'enrichissent réellement lorsque l'État s'endette pour leur distribuer des revenus.

La théorie dite keynésienne est claire: lorsque la consommation publique augmente et que ces dépenses sont financées par un déficit public, la demande globale augmente. Il en est de même si les dépenses publiques sont constantes mais qu'on réduit les impôts en augmentant le déficit. Une politique budgétaire expansionniste menée par un déficit public est donc favorable à la croissance. [1] L'équivalence Ricardo-Barro [1] constitue un apport théorique majeur qui s'oppose à la vision dite keynésienne conventionnelle. L'intuition est simple : comme les agents savent que les dépenses publiques seront tôt ou tard financées par des impôts, ils considèrent le déficit comme un impôt de demain. Par conséquent, ils diminuent leur consommation privée, ce qui compense exactement la consommation publique. La dette publique n'est pas une richesse nette pour les agents privés. L'effet est donc nul. Il y a neutralité des moyens de financement des dépenses publiques.

Source: Bacache-Beauvallet Maya, Montoussé Marc, *Textes fondateurs en sciences économiques depuis 1970*, Bréal, 2003, p 33.

QUESTION : Expliquer le passage souligné (2 points)

Document 2 : conjoncture de la France



PIB : taux de variation (%) du PIB, BTC : Solde de la balance des transactions courantes¹ (en % du PIB), INFL : taux de variation de l'indice des prix à la consommation (en %), CHO : taux de chômage (en %)

¹ : La balance des transactions courantes permet de mesurer le solde extérieur

1975 : Plan de relance Chirac

2008 : Plan de relance Sarkozy

Source : graphique réalisé à partir des données de l'Insee

QUESTION : Au regard des 4 schémas de type « Carré de Kaldor » concernant la France, que pouvez-vous conclure sur l'efficacité des politiques conjoncturelles présentées ? (3 points)