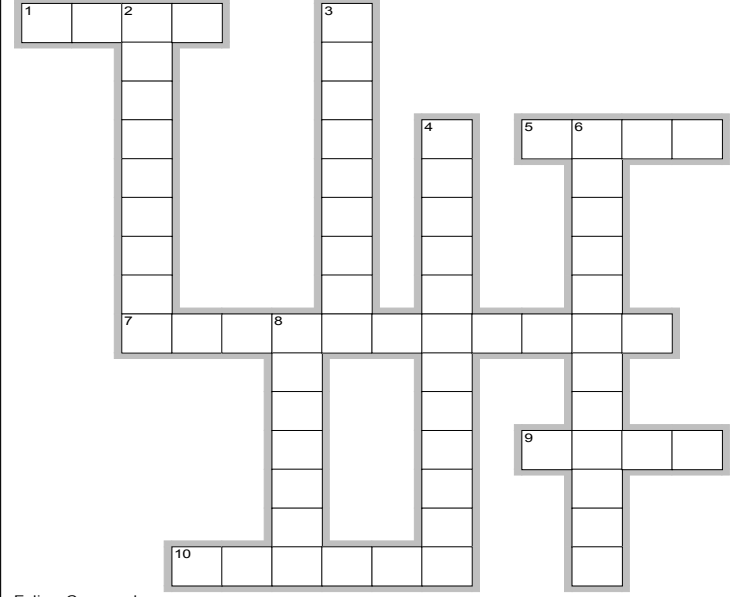


I] Définissez les termes suivants : (4 points)

- IDH
- Productivité globale des facteurs
- Facteurs de production
- Croissance endogène

II] Question de cours (8.5 points)

- 1) Exposez la manière dont la théorie économique analyse le processus de croissance. (3 points)
- 2) Expliquez le rôle des institutions dans l'entretien de la croissance (3 points)
- 3) Complétez la grille à l'aide des indications fournies (2.5 points)

 <p style="font-size: small; margin-top: 10px;">EclipseCrossword.com</p>	<p>Horizontalement :</p> <ol style="list-style-type: none"> 1. Agrégat mesurant l'investissement. 5. Tel est le PIB déflaté. 7. Activité non mesurée par le PIB alors qu'elle comprend certes des activités illicites mais aussi des licites! 9. Tel est le capital lorsqu'il est facteur de production. 10. Synonyme d'€ constants. <p>Verticalement :</p> <ol style="list-style-type: none"> 2. Tels sont les rendements d'échelle dans la fonction de production. 3. Ce droit est celui des brevets notamment. 4. Cette production est comptabilisée dans le PIB mais par ses coûts de production. Attention la réponse est en 2 mots non séparés ni par un espace ni par un tiret. 6. Elles peuvent être positives ou négatives mais elles ne sont voulues... 8. Sa division est à l'origine de gains de productivité importants.
---	---

III] Etude de documents

Document 1 : Taux de croissance annuel moyen (en %) de 1985 à 2009

	PIB	Facteur travail	Facteur capital	Productivité globale des facteurs
Allemagne	1.1	0.5	-0.3	0.9
France	<u>1.9</u>	0.7	0.1	1.1
Etats-Unis	2.6	0.9	0.7	1.0
Japon	2.0	0.9	-0.4	1.5

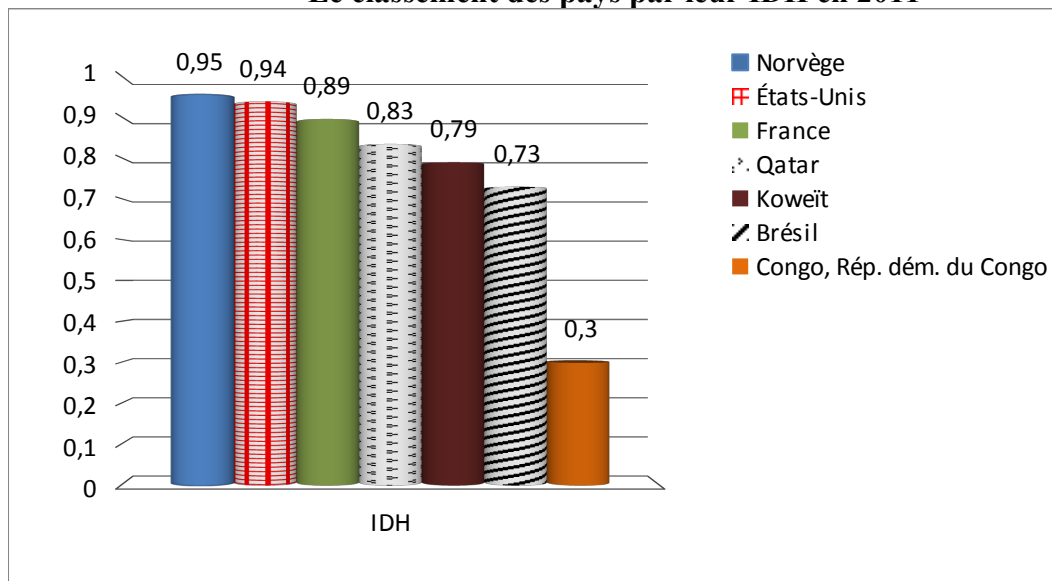
Source OCDE, 2010

- 1) Faites une phrase avec la donnée en gras soulignée pour lui en donner un sens (0.5 point)
- 2) Vous présenterez le document puis vous montrerez le rôle du progrès technique dans la croissance économique. (4 points)

ATTENTION DOC 2 AU DOS !

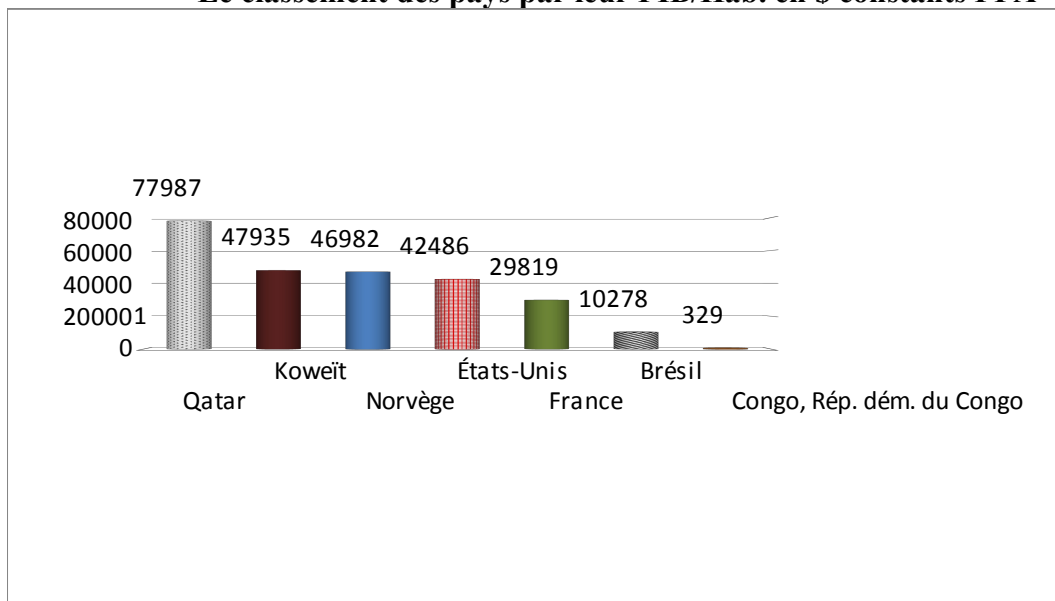
Document 2 : Le PIB/Hab et l'IDH dans quelques pays

Le classement des pays par leur IDH en 2011



PNUD 2012

Le classement des pays par leur PIB/Hab. en \$ constants PPA



PNUD 2012

A l'aide du document 2, montrez en quoi le PIB est limité dans la mesure du développement ? (3 points)

