

DS sur « Quels sont les fondements du commerce international et de l'internationalisation de la production ? », durée 2 h


DS sur 30  
TES2, SUJET A

**I] Définissez les termes suivants :** (3 pts)

- Protectionnisme
- FMN
- Avantages comparatifs

**II] Questions de cours**

A) Complétez la grille à l'aide des indications fournies (7 pts)



**Horizontalement :**

2. Tels sont les avantages non innés...
4. Telle est la dotation chez HOS...
6. 4 lettres désignant l'internationalisation de la production.
10. Son taux se mesure notamment par le poids des exportations dans le PIB.
13. Tels sont les IDE pour le pays d'accueil.
14. Facteur important de la hausse des flux mondiaux de services.

**Verticalement :**

1. Le GATT en est l'ancêtre...
3. Corollaire de marginalisation.
5. Protectionnisme de List.
7. Le protectionnisme non tarifaire agit directement sur celles-ci.
8. Monnaies étrangères.
9. Produits majoritairement échangés au niveau mondial.
11. Tel est le développement actuel qui ne nuit pas à celui des générations futures.
12. Unités de production à l'étranger.

B) En quoi peut-on dire qu'une externalisation n'est pas synonyme de délocalisation ? (2 pts)

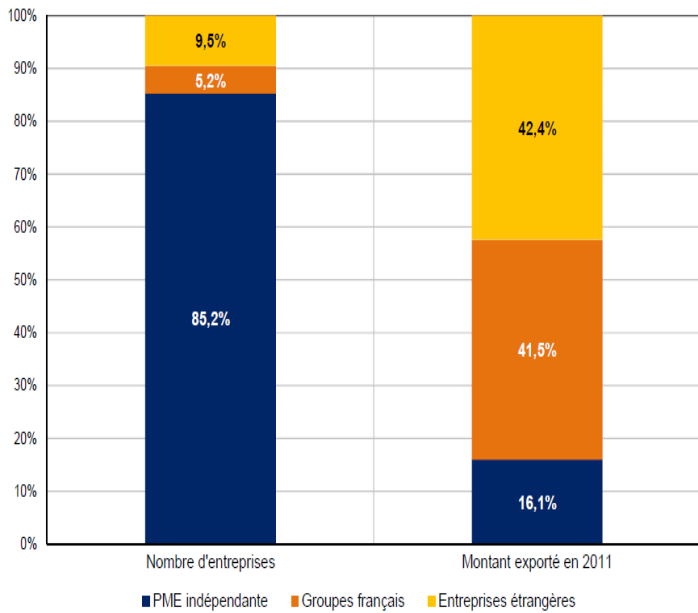
C) Quels sont les effets d'une dévaluation de l'€ par rapport au \$ sur l'économie européenne ? (3 pts)

D) Quels sont les déterminants des échanges internationaux ? (4 pts)

### III] Etude de documents

#### Document 1 : Les entreprises exportatrices en France

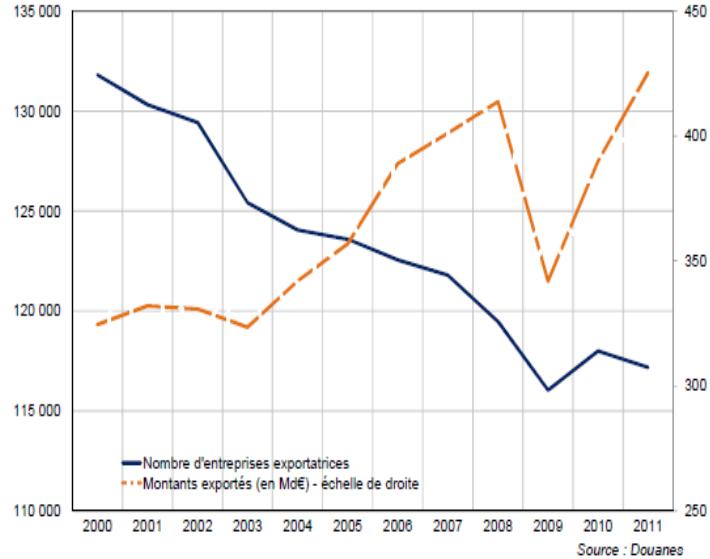
STRUCTURE PAR TYPE D'ENTREPRISE DE L'APPAREIL EXPORTATEUR FRANÇAIS EN 2011



Source : Douanes, Insee, Calculs DG Trésor

Évolution du nombre d'entreprises exportatrices et des montants exportés

(en milliards d'euros)



Source : Douanes

- 1) A l'aide du graphique de droite, faites une phrase permettant de donner un sens aux données de 2011. (2 pts)
- 2) A l'aide des documents proposés, sur quoi repose la compétitivité de la France ? (3 pts)

#### Document 2 : Les évolutions du commerce mondial

TCAM en %	1967-1987	1988-2009	En milliards de \$ en 2009
PIB mondial	10,4	6,4	58125
Flux mondiaux de produits primaires	11,3	8,4	1914
Flux mondiaux de produits de l'industrie	13,7	8,1	8503
Flux mondiaux de services	13,6	<b>8,6</b>	2926

Source : CEPII, 2010

- 1) Faites une phrase avec la donnée en gras soulignée permettant de lui en donner un sens. (1 pt)
- 2) Comparez les données concernant le PIB mondial à celles des flux mondiaux de produits. (1 pt)
- 3) Après avoir présenté le document, vous mettrez en évidence les évolutions du commerce international depuis 1967. (4 pts)