


**I] Définissez les termes suivants : (3 points)**

- Politique monétaire
- Marché commun
- Taux d'intérêt

**II] Questions de cours**

A) Complétez la grille à l'aide des indications fournies (5 points)



**Horizontalement :**

4. Elles sont mises en avant dans la stratégie de "L'Europe 2020" et correspondent aux résultats d'une forme d'investissement immatériel.
6. Un des pères fondateurs de l'Europe.
8. Elle peut être budgétaire, extérieure... Elle pèse sur les décisions des Etats en termes de politiques économiques.
9. Elle est l'objectif premier de la construction européenne.

**Verticalement :**

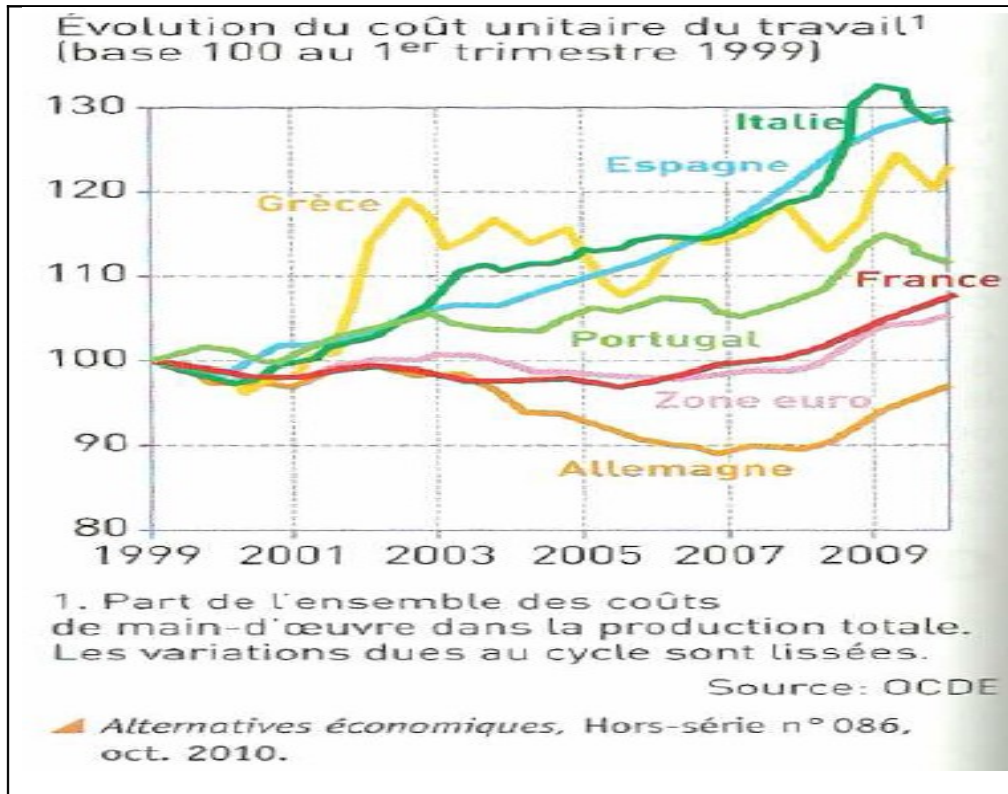
1. Son risque disparaît avec le passage à l'€ entre les pays de la zone.
2. Telles sont les politiques dans le cadre de l'UE lorsque les deux niveaux de compétences sont "mixés".
3. Adjectif utilisé pour qualifier la dette de l'Etat. Elle est alors dite...
5. Ce taux d'intérêt est celui du refinancement des banques sur le marché interbancaire.
7. Avec l'intégration économique progressive, elle s'accroît générant ainsi des économies d'échelle.
8. Telle est la politique dont le niveau supranational détient les compétences "exclusives".

B) Rédigez l'introduction du sujet « En quoi peut-on dire que les pays européens mènent une expérience originale d'intégration de leurs économies ? » (3 points)

C) Quelles difficultés de coordination des politiques économiques rencontrent les pays de l'UE ? (4 points)

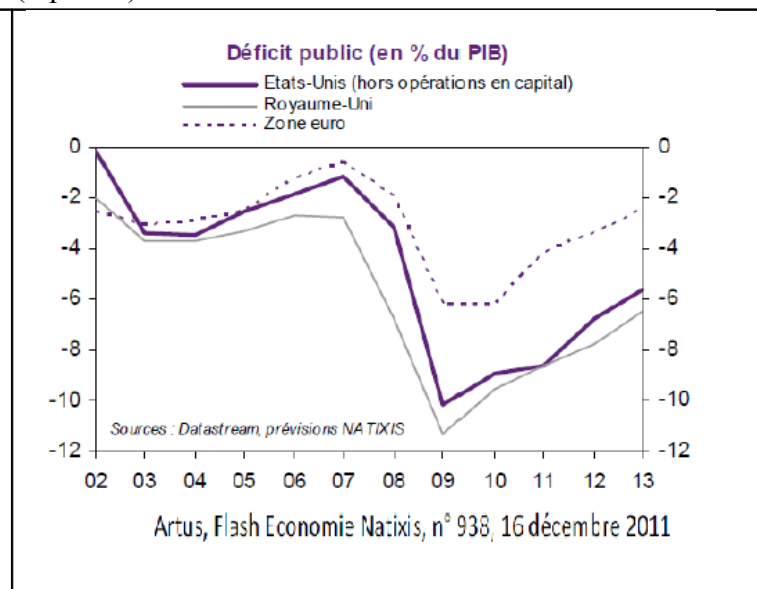
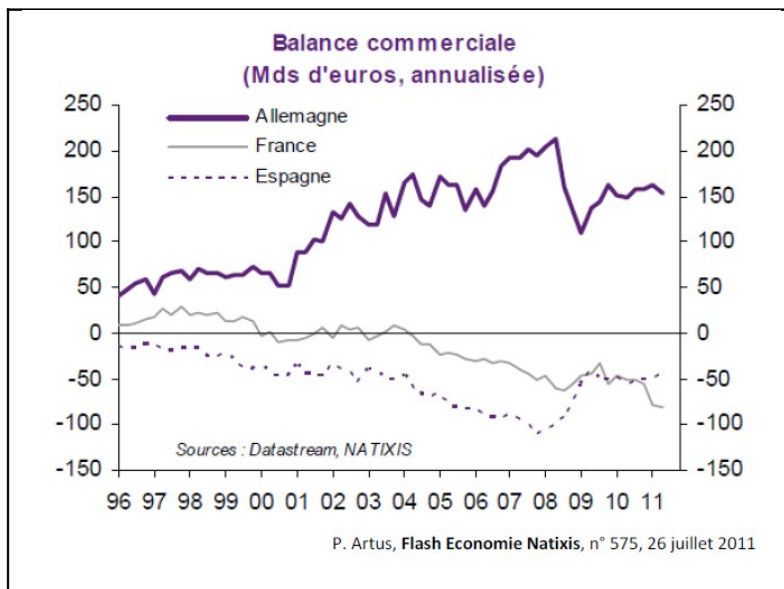
### III] Etude de documents

#### Document 1 : (4 points)



Après avoir présenté le document vous montrerez en quoi il permet de mettre en évidence la difficulté de coordination des politiques économiques dans le cadre de l'UE.

#### Document 2 : (6 points)



- 1) Faites une phrase avec la donnée de la France en 2011 permettant de lui en donner un sens (document de gauche)
- 2) Faites une phrase avec la donnée de la zone euro en 2013 permettant de lui en donner un sens (doc de droite)
- 3) A l'aide de ces deux documents, répondez à la question suivante : Dans quelle mesure le processus d'intégration de l'UEM a-t-il atteint ses objectifs ? (4 points)